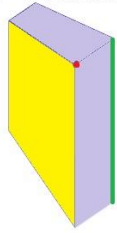
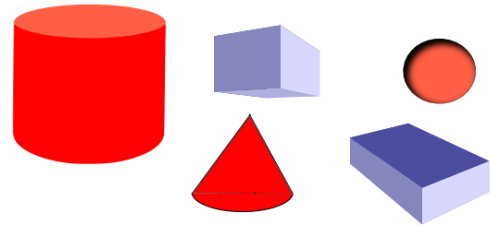


IGRALNE KARTE  
za **3. razred**

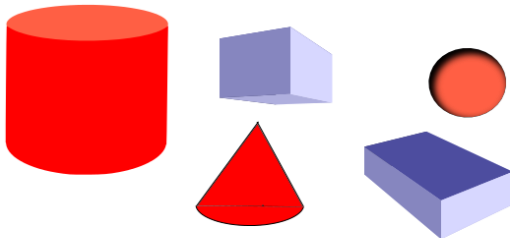
NA SLIKI JE NARISAN KVADER.  
POIMENUJ OBARVANE DELE.



KATERO TELO NA SLIKI IMA  
UKRIVLJEN ROB?



KATERO TELO NA SLIKI IMA  
UKRIVLJENO PLOSKEV?




IMENUJ OBLIKE PROMETNIH  
ZNAKOV.



KATERIH GEOMETRIJSKIH  
TELES JE NAJVEČ?



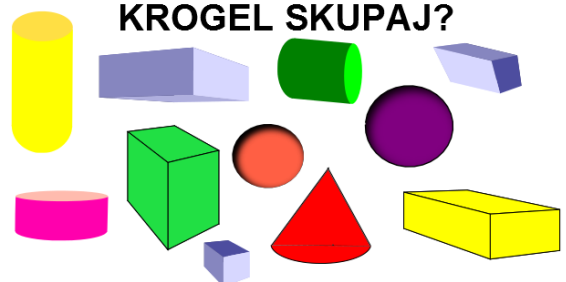
KATERIH GEOMETRIJSKIH  
TELES JE NAJMANJ?



KOLIKO JE KOCK IN  
KVADROV SKUPAJ?



KOLIKO JE VALJEV IN  
KROGEL SKUPAJ?



ALI JE TRDITEV PRAVILNA?

LIK JE OMEJEN S  
SKLENJENO ČRTO.

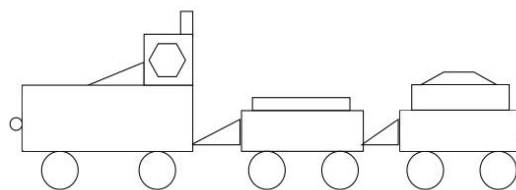
ALI JE TRDITEV PRAVILNA?

ŠESTKOTNIK IMA 6 STRANIC.

NARIŠI LIK, KI IMA 8 STRANIC.



KOLIKO LIKOV SESTAVLJA  
RISBO?



NAJMANJ KOLIKO VŽIGALIC  
POTREBUJEŠ, DA SESTAVIŠ  
2 TRIKOTNIKA?

ALI JE TRDITEV PRAVILNA?

KROGLA IMA ENO MEJNO PLOSKEV.

ALI JE TRDITEV PRAVILNA?

KROGLA IMA ENAKO MNOGO  
ROBOV IN OGLIŠČ.

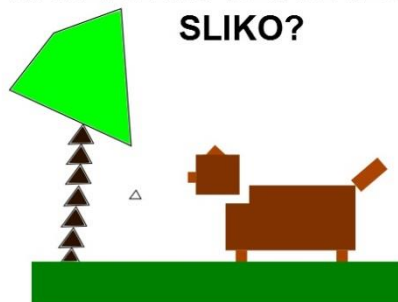
ALI JE TRDITEV PRAVILNA?

STOŽEC IMA ENAKO ŠTEVILO  
ROBOV IN OGLIŠČ.


ALI JE TRDITEV PRAVILNA?

VALJ IMA 2 ROBA.

KATERI LIKI SESTAVLJAJO  
SLIKO?




V VSAKI VRSTICI POIŠČI  
VSILJIVCA.



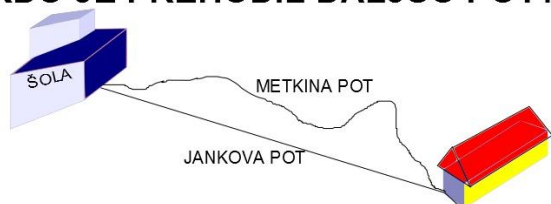
NAŠTEJ 3 VELIKE TISKANE ČRKE,  
KI SO SIMETRIČNE.

KATERE SLIKE SO SIMETRIČNE?

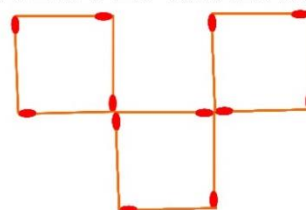


NAŠTEJ 3 PREDMETE IZ  
RAZREDA, KI SO SIMETRIČNI.

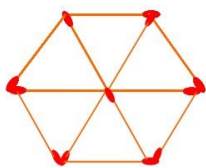
JANKO IN METKA STA ŠLA VSAK  
PO SVOJI POTI V ŠOLO.  
KDO JE PREHODIL DALJŠO POT?




PREMAKNI VŽIGALICE TAKO,  
DA BO PET KVADRATOV.




IZ POSTAVLJENIH VŽIGALIC NAREDI 4 TRIKOTNIKE. ODSTRANIŠ LAHKO LE 2 VŽIGALICI.



KOLIKO TRIKOTNIKOV JE NA SLIKI?

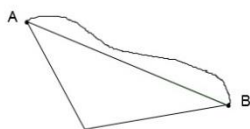


KOLIKO ŠTIRIKOTNIKOV JE NA SLIKI?



S PREPOGIBANJEM LISTA PRIKAŽI SKLENJENO LOMLJENO ČRTO.

KATERA ČRTA JE NAJKRAJŠA?



KATERI LIKI SO MED SEBOJ SKLADNI?

