

IGRALNE KARTE
za 2. razred

Nariši dva predmeta,
ki imata obliko
KROGLE.

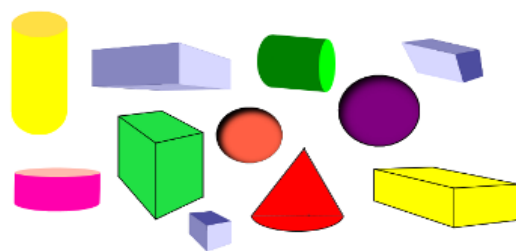
Nariši dva predmeta,
ki imata obliko
KVADRA.

Nariši dva predmeta,
ki imata obliko
KOCKE.

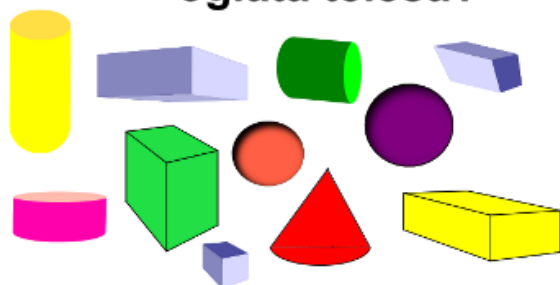
Nariši dva predmeta,
ki imata obliko
VALJA.

Nariši dva predmeta,
ki imata obliko
PIRAMIDE.

Katera telesa na sliki imajo
dve ravni in
eno krivo ploskev?



Katera telesa na sliki
spadajo pod
oglasta telesa?



Katera telesa na sliki
spadajo pod
okrogla telesa?



**Iz palčk sestavi hišo,
ki bo iz kvadratov
in dveh trikotnikov.**

**S šablono nariši
ladjico. Poimenuj
oblike likov,
ki si jih uporabil
pri risanju.**

**Nariši lik, ki ima
eno krivo stranico.**

**Nariši dva lika,
ki imata
ravne stranice.**

**Katero telo bi uporabil,
da bi z njim dobil
odtis pravokotnika?**

**Katero telo bi uporabil,
da bi z njim dobil
odtis kroga?**

**KATERO TELO BI UPORABIL,
DA BI Z NJIM DOBIL ODTIS
KVADTA?**

**KATERO TELO BI UPORABIL,
DA BI Z NJIM DOBIL ODTIS
TRIKOTNIKA?**


**KAKŠNE OBLIKE JE
TVOJA PERESNICA?**

**NARIŠI SKLENJENO LOMLJENO
RAVNO ČRTO.**

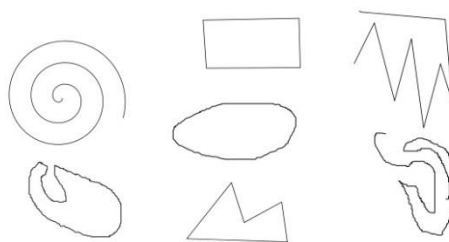
**NARIŠI NESKLENJENO
LOMLJENO ČRTO.**

**NARIŠI NESKLENJENO RAVNO
ČRTO.**

**KATERE ČRTE SO
RAVNE IN LOMLJENE?**



KATERE ČRTE SO SKLENJENE?



**NARIŠI DVE SKLENJENI KRIVI
ČRTI TAKO, DA BO ENA
LEŽALA ZNOTRAJ DRUGE
IN DA SE ČRTI
NE BOSTA DOTIKALI.**

**NARIŠI DVE SKLENJENI
ČRTI, KI SE DOTIKATA ZNOTRAJ
SAMO NA ENEM MESTU.**

**NARIŠI SKLENJENO LOMLJENO
ČRTO, SESTAVLJENO
IZ SEDMIH RAVNIH ČRT.**

**NARIŠI RAVNO IN KRIVO ČRTO,
KI SE SEKATA V TREH TOČKAH
IN TOČKE OZNAČI.**

**NARIŠI TOČKE A, B IN C.
TOČKI A IN B POVEŽI
Z RAVNO ČRTO,
TOČKI B IN C PA
S KRIVO ČRTO.**

**NARIŠI LIK S KRIVO STRANICO
IN LIK Z RAVNIMI STRANICAMI
TAKO, DA BOSTA IMELA
ENO SKUPNO TOČKO.**

**KATERE DVA LIKA
SE SEKATA V 8 TOČKAH?**

